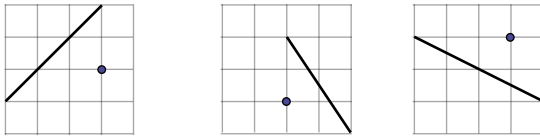


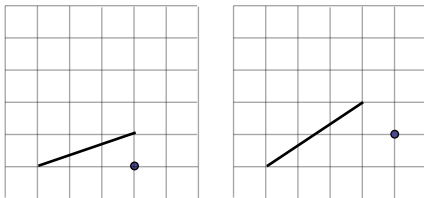


КЛЕТЧНАЯ ГЕОМЕТРИЯ ДЛЯ ВСЕХ

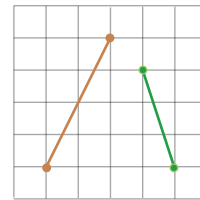
1. Через отмеченный узел сетки и ещё какой-то её узел проведите прямую, параллельную данной.



2. Через отмеченный узел сетки и ещё какой-то её узел проведите прямую, перпендикулярную данной.



3. Найдите величину угла между прямыми.



4. То, что диагональ прямоугольника 3×4 равна 5, можно доказать и не прибегая к теореме Пифагора или площадям. Попробуйте это сделать, используя рисунок.

